
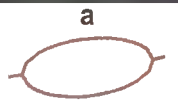
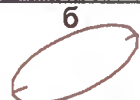

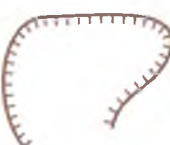
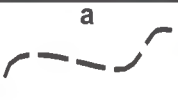
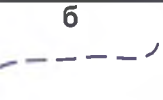
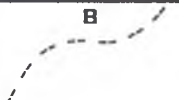











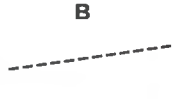







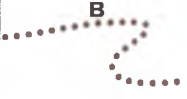



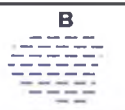
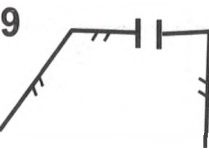




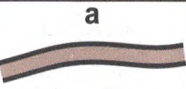




Тест 4

Что означает этот символ?

Подберите символ.

<p>1 </p> <p>а) ручей б) канава в) тропа</p>	<p>11 яма</p> <p>а  б  в </p>
<p>2 </p> <p>а) непреодолимая скальная стена б) земляной вал в) обрыв</p>	<p>12 исчезающая тропа</p> <p>а  б  в </p>
<p>3 </p> <p>а) узкая просека б) шоссе в) широкая открытая просека</p>	<p>13 постройка</p> <p>а  б  в </p>
<p>4 </p> <p>а) преодолимая каменная стена б) непреодолимая каменная стена в) преодолимая скальная стена</p>	<p>14 сухая канава</p> <p>а  б  в </p>
<p>5 </p> <p>а) непреодолимая ограда б) преодолимая ограда в) преодолимый трубопровод</p>	<p>15 узкая заросшая просека</p> <p>а  б  в </p>
<p>6 </p> <p>а) труднопреодолимое болото б) непреодолимое болото в) заболоченность</p>	<p>16 внемасштабный объект рельефа</p> <p>а  б  в </p>
<p>7 </p> <p>а) проселочная дорога б) улучшенная дорога в) узкая просека</p>	<p>17 поверхность с микронеровностями</p> <p>а  б  в </p>
<p>8 </p> <p>а) горка б) контрольный пункт в) финиш</p>	<p>18 заболоченность</p> <p>а  б  в </p>
<p>9 </p> <p>а) развалины б) преодолимая ограда в) проход в ограде</p>	<p>19 полуоткрытое пространство</p> <p>а  б  в </p>
<p>10 </p> <p>а) стрелка магнитного Меридиана б) кормушка в) стрельбище</p>	<p>20 улучшенная дорога</p> <p>а  б  в </p>