






















































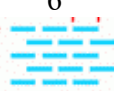







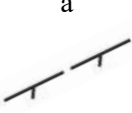


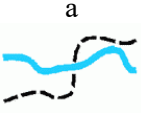
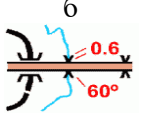
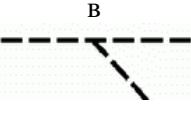










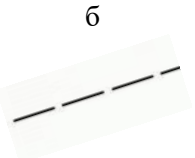
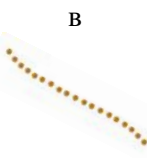

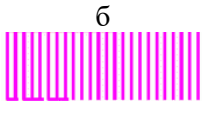
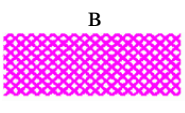


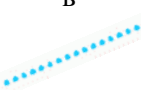


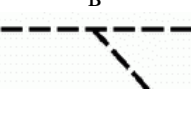



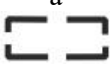


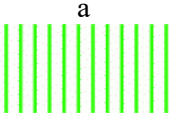
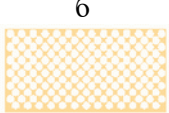




Тест 1  
Что означает этот символ?

1		а) улучшенная дорога б) непреодолимая река в) тропа	11		а) канава с водой б) проселочная дорога в) узкая просека
2		а) земляной вал б) разрушенная каменная стена в) сухая канава	12		а) яма б) лощина в) гора
3		а) внемасштабный объект рельефа б) воронка в) микробугорок	13		а) земляной обрыв б) земляной вал в) основная горизонталь
4		а) фруктовый сад б) открытое пространство в) лес, проходимый в одном направлении	14		а) озеро б) запретная территория в) непреодолимое болото
5		а) заболоченность б) непреодолимое болото в) труднопреодолимое болото	15		а) сухая канава б) тропа в) маленькая промоина
6		а) трубопровод б) мост в) туннель	16		а) проход в ограде б) каменная стена в) непреодолимая ограда
7		а) фундамент б) постройка в) застроенная территория	17		а) стрельбище б) кормушка в) стрелка магнитного меридиана
8		а) большая башня б) церковь в) маленькая башня	18		а) внемасштабный искусственный объект б) финиш в) точка начала ориентирования
9		а) туннель б) переправа с мостом в) переправа без моста	19		а) каменная россыпь б) сухая канава в) поверхность с микронеровностями
10		а) непригодная для движения дорога б) непреодолимая граница в) маркированный участок	20		а) промоина б) микроямка в) лощина











Тест 2  
Что означает этот символ?

1		а) шоссе б) исчезающая тропа в) улучшенная дорога	11		а) железная дорога б) преодолимый трубопровод в) каменная стена
2		а) широкая заросшая просека б) река в) узкая просека	12		а) лощина б) обрыв в) яма
3		а) группа камней б) пещера в) микробугорок	13		а) закрытое пространство б) удобное для бега пространство в) труднопроходимая растительность
4		а) четкая граница растительности б) пересыхающий ручей в) сухая канава	14		а) колодец б) пруд в) родник
5		а) канава б) пересыхающий ручей в) непреодолимая река	15		а) озеро б) непреодолимое болото в) болото
6		а) болото б) непреодолимое болото в) заболоченность	16		а) преодолеваемая ограда б) разрушенная ограда в) непреодолимая ограда
7		а) фундамент б) постройка в) застроенная территория	17		а) стрелка магнитного меридиана б) стрельбище в) кормушка
8		а) шоссе б) проселочная дорога в) улучшенная дорога	18		а) земляной вал б) промоина в) земляной обрыв
9		а) внемасштабный искусственный объект б) маленькая башня в) большая башня	19		а) мостик б) переправа с мостом в) переправа без моста
10		а) непригодная для движения дорога б) запрещенный для бега район в) маркированный участок	20		а) контрольный пункт б) пункт питания в) финиш




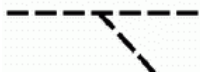


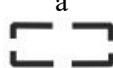























Тест 3  
Подберите символ

1	лощина		11	улучшенная дорога	
а	б	в	а	б	в
					
2	ручей		12	железная дорога	
а	б	в	а	б	в
					
3	труднопроходимое болото		13	электролиния	
а	б	в	а	б	в
					
4	камень		14	непреодолимая ограда	
а	б	в	а	б	в
					
5	переправа с мостом		15	высокая башня	
а	б	в	а	б	в
					
6	воронка		16	начало ориентирования	
а	б	в	а	б	в
					
7	узкая просека		17	опасная территория	
а	б	в	а	б	в
					
8	колодец		18	непреодолимый трубопровод	
а	б	в	а	б	в
					
9	открытое пространство		19	развалины	
а	б	в	а	б	в
					
10	лес, пробегаемый в одном направлении		20	гора	
а	б	в	а	б	в
					

Что означает этот символ?

1		а) ручей б) канава в) тропа
2		а) непреодолимая каменная стена б) земляной вал в) обрыв
3		а) преодолимая ограда б) шоссе в) просека
4		а) преодолимая каменная стена б) непреодолимая каменная стена в) преодолимая скальная стена
5		а) непреодолимая ограда б) преодолимая ограда в) преодолимый трубопровод
6		а) труднопреодолимое болото б) непреодолимое болото в) заболоченность
7		а) проселочная дорога б) улучшенная дорога в) узкая просека
8		а) горка б) контрольный пункт в) финиш
9		а) развалины б) непреодолимая ограда в) проход в ограде
10		а) линия магнитного меридиана б) кормушка в) стрельбище

Подберите символ

11	яма		
	а 	б 	в 
12	исчезающая тропа		
	а 	б 	в 
13	постройка		
	а 	б 	в 
14	сухая канава		
	а 	б 	в 
15	узкая заросшая просека		
	а 	б 	в 
16	внемасштабный объект рельефа		
	а 	б 	в 
17	поверхность с микронеровностями		
	а 	б 	в 
18	заболоченность		
	а 	б 	в 
19	полукрытое пространство		
	а 	б 	в 
20	улучшенная дорога		
	а 	б 	в 

Какой условный знак относится к рельефу?

1	a 	б 	в 
2	a 	б 	в 
3	a 	б 	в 
4	a 	б 	в 
5	a 	б 	в 

Какой условный знак относится к растительности?

11	a 	б 	в 
12	a 	б 	в 
13	a 	б 	в 
14	a 	б 	в 
15	a 	б 	в 

Какой условный знак относится к гидрографии?
















6	a 	б 	в 
7	a 	б 	в 
8	a 	б 	в 
9	a 	б 	в 
10	a 	б 	в 

Какой условный знак относится к искусственным сооружениям?
















16	a 	б 	в 
17	a 	б 	в 
18	a 	б 	в 
19	a 	б 	в 
20	a 	б 	в 

Тест 6
















Какой условный знак относится к знаку обозначения дистанции?

1	a 	б 	в 
2	a 	б 	в 
3	a 	б 	в 
4	a 	б 	в 
5	a 	б 	в 














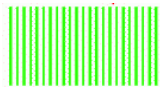

Какой условный знак относится к площадным ориентирам?

11	a 	б 	в 
12	a 	б 	в 
13	a 	б 	в 
14	a 	б 	в 
15	a 	б 	в 










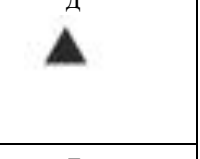
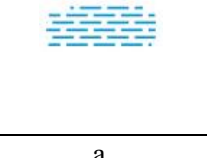

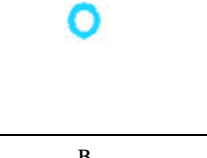

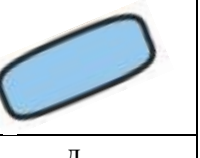

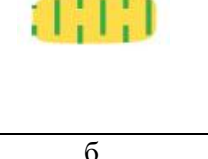
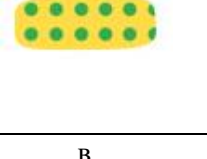
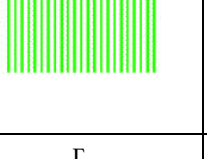

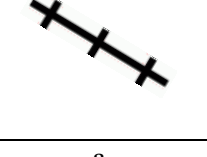
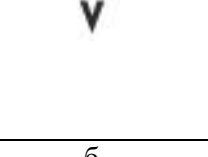

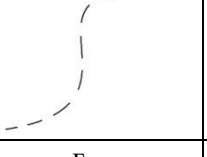




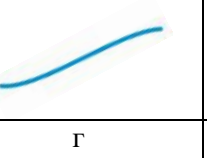

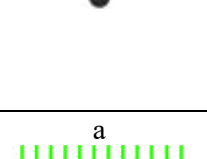
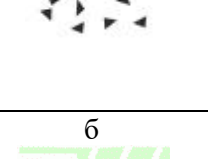

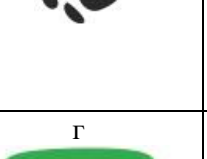
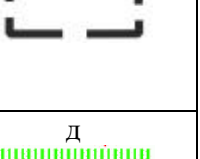


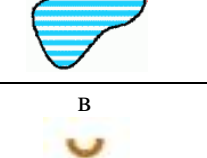
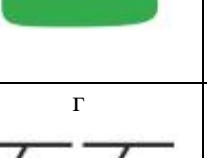


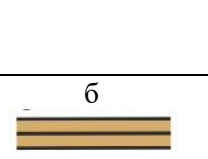
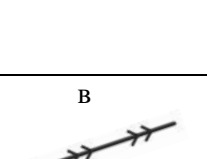






Какой условный знак относится к линейным ориентирам?

6	a 	б 	в 
7	a 	б 	в 
8	a 	б 	в 
9	a 	б 	в 
10	a 	б 	в 

Какой условный знак относится к точечным ориентирам?

16	a 	б 	в 
17	a 	б 	в 
18	a 	б 	в 
19	a 	б 	в 
20	a 	б 	в 

Тест 7  
Исключите лишний знак

1	а 	б 	в 	г 	д 
2	а 	б 	в 	г 	д 
3	а 	б 	в 	г 	д 
4	а 	б 	в 	г 	д 
5	а 	б 	в 	г 	д 
6	а 	б 	в 	г 	д 
7	а 	б 	в 	г 	д 
8	а 	б 	в 	г 	д 
9	а 	б 	в 	г 	д 
10	а 	б 	в 	г 	д 